


Topshiriq-1. har bir qatordagi soʻzlarni oʻqing. oʻylab koʻrib, berilgan beshta soʻzdan maʼnosi toʻgʻri kelmaydigan ortiqcha soʻzni aniqlab, javoblar varaqasiga toʻgʻri javob harfini yozing.

1	a) nuqta, b) kvadrat, v) toʻgʻri toʻrtburchak, g) uchburchak, d) romb
2	a) doira, b) uzunlik, v) en, g) hajm, d) ogʻirlik
3	a) aylana, b) diametr, v) radius, g) son, d) yoy
4	a) kub, b) shar, v) piramida, g) tezlik, d) tsilindr
5	a) millimetr, b) santimetr, v) metr, g) kilometr, d) kvadrat
6	a) qoʻshish, b) ayirish, v) yigʻindi, g) koʻpaytirish, d) boʻlish
7	a) hujayra, b) yadro, v) tsitoplazma, g) mebrana, d) oʻsimlik
8	a) ildiz, b) poya, v) gul changi, g) gul, d) barg
9	a) koʻmir, b) gaz, v) benzin, g) neft, d) havo
10	a) qiymat, b) farq, v) kasr, g) qism, d) koʻpaytma

Topshiriq-2. Bu jadvalda 5 qator son berilgan. Oʻylab koʻring, har bir qatordagi sonlar qaysi qoida boʻyicha tuzilgan? Har qatorni davom ettiradigan ikkita sonni aniqlab, javoblar varaqasiga yozing. **Namuna: 1 4 7 10 13 16** ____ ____ - Bu qatorni davom ettiradigan sonlar 19 va 21.

2	3	4	5	6	7	___	_____
6	9	12	15	18	21	_____	_____
1	2	4	8	16	32	_____	_____
19	16	14	11	9	6	_____	_____
64	32	16	8	4	2	_____	_____

Topshiriq -3 Soʻroq belgisi oʻrniga tushirib qoldirilgan sonni qoʻying?



Topshiriq-4. So‘roq belgisi o‘rniga to‘g‘ri javobni qo‘ying?

1) (32-16-8-4-2-?)

A) 3

B)1,5

C)1

2) (15-18-17-20-19-?)

A) 22

B)21

C)18

Topshiriq-5. Ushbu jadvalda 5 ta mantiqiy topshiriq berilgan. Chiziqni tagiga yozilgan topshiriqni o‘ylab ko‘ring va yeching.

Namuna: A B dan 3 marta ko‘p.

B V dan 6 marta kam.

Savol: A V dan kattami, kichikmi?

To‘g‘ri javob: A V dan kichik.

Topshiriqlar bo‘yicha yechimini javoblar varaqasiga yozing.

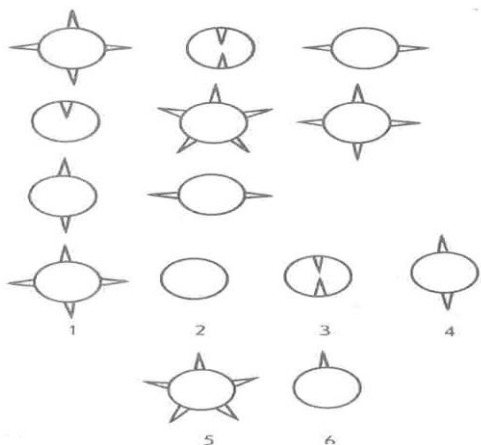
1.	A B dan 2 marta katta, B V dan 5 marta kichik. _____ Savol: A V dan kattami, kichikmi?
2	A B dan 10 marta kichik, B V dan 6 marta katta. _____ Savol: A V dan kattami, kichikmi?
3	A B dan 3 marta katta, B V dan 6 marta kichik. _____ Savol: V A dan kattami, kichikmi?
4	A B dan 4 marta katta, B V dan 3 marta kichik. _____ Savol: V A dan kattami, kichikmi?
5	A B dan 6 marta katta, B V dan 7 marta katta. _____ Savol: A V dan kattami, kichikmi?

Topshiriq-6. 1 dan 6 gacha bo‘lgan sonlarni doiralarga shunday joylashtiringki, natijada


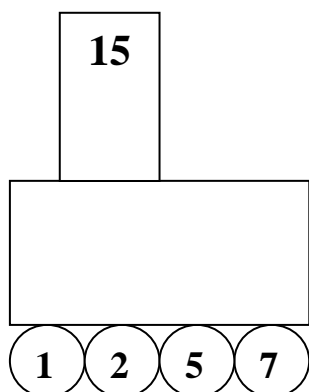


- 1) 4 va 5 va ular orasidagi sonlar yig'indisi 19 ga teng bo'lsin;
- 2) 6 va 3 va ular orasidagi sonlar yig'indisi 10 ga teng bo'lsin;
- 3) 2 va 1 va ular orasidagi sonlar yig'indisi 11 ga teng bo'lsin;
- 4) 4 va 3 va ular orasidagi sonlar yig'indisi 14 ga teng bo'lsin.

Topshiriq -7 Belgilangan oltita shakl ichidan keregligini tanla



Topshiriq-8. So'roq belgisi o'rniga tushirib qoldirilgan sonni qo'ying?



Topshiriq-9. Tushirib qoldirilgan harfni va sonni qo'ying?

1
A

D
3

5
F

?
?

Topshiriq-10. Bu 6 ta juft sonlarning nechtasi aynan o'xshaydi?

- | | |
|----------|----------|
| 5296 | 5296 |
| 66986 | 69686 |
| 834426 | 834426 |
| 7354256 | 7354256 |
| 61197172 | 61197172 |
| 83238324 | 83238234 |