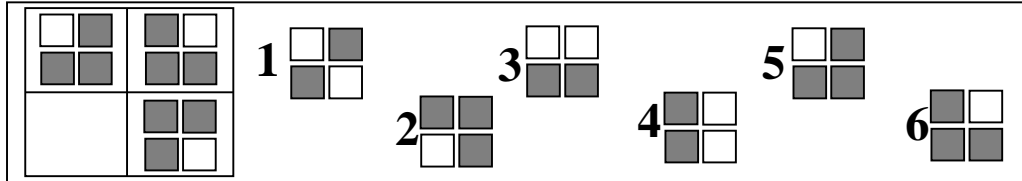
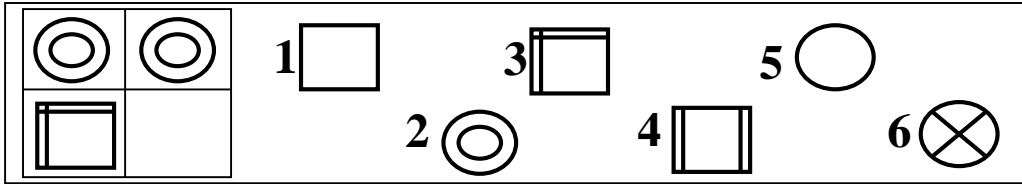


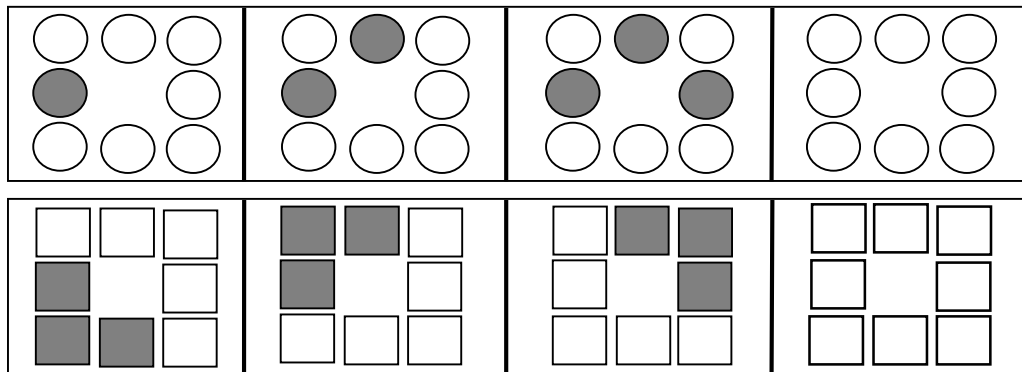
Задание №1

Вставь в пустую ячейку номер недостающего рисунка .



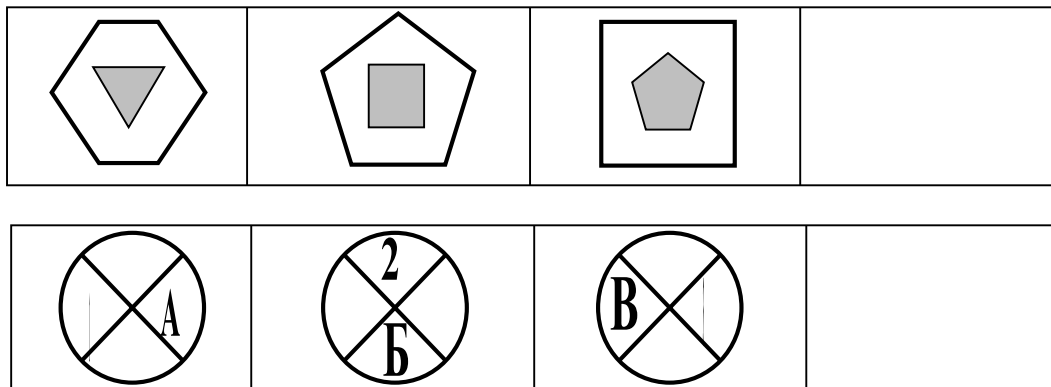
Задание №2

Продолжи логический ряд, закрасив необходимое количество фигур в последней ячейке.



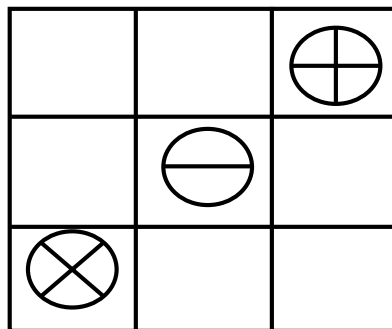
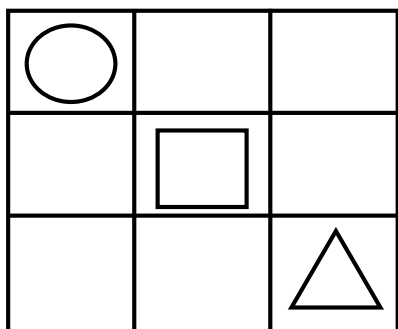
Задание №3

Продолжи логический ряд, заполнив последнюю ячейку.



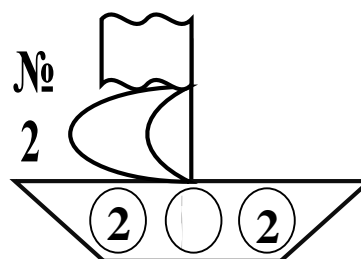
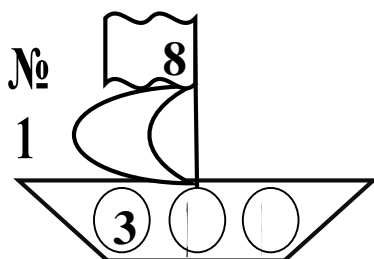
Задание №4

Заполни пустые ячейки так, чтобы в ряду и столбце не было одинаковых фигур.





Задание №5

Запиши на флаг яхты №2-справа необходимую цифру. Разгадать секрет поможет яхта №1- слева.



Вставь в пустой лепесток пропущенную цифру.




Задание №6

Бабушка связала внукам Саше, Серёже и Самiru варежки. Кому-то синие, кому-то зеленые, а кому-то красные. Какие варежки достались Самiru если Серёже с Сашей не достались синие варежки?


Задание №7

Попробуй разгадать секрет и напиши нужную цифру вместо знака вопрос?



Задание №8

Зачеркни лишнюю картинку



Задание №9

Реши логические задачи.

1. Соня и Валя писали контрольную работу и получили оценки «5» и «4». Какую оценку получила Валя, если Соня написала контрольную не на «5»?

А. 3 Б. 4 В. 5

2. Одноклассники Ваня, Вахид и Умид смастерили скворечники. Умид разместил свой домик для птиц не ниже, чем у Вани, а Вахид повесил скворечник выше всех. Чей скворечник висит ниже всех?

А. Вани Б. Умида В. Вахида

Задание №10

Ответь на вопросы, выбрав только один правильный ответ. Букву ответа возведи в кружок.

1. Что из перечисленного относится к **ОСАДКАМ**?
А) ВЕТЕР Б) ГРАД В) ГРОМ Г) МОРОЗ
2. Что из перечисленного **НЕ** относится к **ВОДОЁМАМ**?
А) ОКЕАН Б) РЕКА В) БЕРЕГ Г) ОЗЕРО
3. Кто из перечисленных животных **НЕ** живёт в жарких странах?
А) МОРЖИ Б) СЛОНЫ В) ЗЕБРЫ Г) ЖИРАФЫ
4. Если молоко-корова, то яйцо-.....
А) ПТЕНЕЦ Б) КУРИЦА В) ГНЕЗДО Г) ПЕТУХ
5. Если август-лето, то ноябрь-.....
А) ОКТЯБРЬ Б) ЗИМА В) ДОЖДЬ Г) ОСЕНЬ
6. Если суббота-пятница, то понедельник-.....
А) ВОСКРЕСЕНЬЕ Б) ВТОРНИК В) НЕДЕЛЯ Г) ДЕНЬ
7. Что из перечисленного относится к **ПРОФЕССИЯМ**?
А) ПОВАР Б) МАМА В) ДРУГ Г) СОСЕД
8. Толя ниже Феди, но выше Сени. Кто самый высокий?
А) ТОЛЯ Б) ФЕДЯ В) СЕНЯ
9. Сосна толще ели, ель толще дуба. Какое из этих деревьев среднее по величине? А) СОСНА Б) ЕЛЬ В) ДУБ
10. В какой стране находятся эти города :Ташкент, Самарканд, Бухара?
А) УЗБЕКИСТАН Б) КАЗАХСТАН В) ТАДЖИКИСТАН